



A-ONE

NURSING ACADEMY

HSSC (CET) NTA Based MOCK TEST

SET-C

Time:- 01:30 hours

Total Question :-95

Total Marks:- $(95 \times 4) = 380$

Name of Candidate:-

Answer Sheet Code:-

IMPORTANT INSTRUCTIONS FOR CANDIDATES

- Immediately after the commencement of the examination, you should check that this test booklet does not have any unprinted or torn or missing pages or items, etc. If so, get it replaced by a complete test booklet.
- Please note that it is the candidate's responsibility to encode and fill in the Roll Number carefully and without any omission or discrepancy at the appropriate places in the OMR answer sheet. Any omission/discrepancy will render the Answer sheet liable for rejection.
- Candidates are warned **not to fold or make any stray marks on the OMR Answer Sheet**. Use of Eraser, Nail, Blade, White Fluid/Whitener etc, to smudge, scratch or damage in any manner on the OMR Sheet during Examination is strictly prohibited. Candidature/OMR Sheet of candidates using Eraser, Blade, Nail or White Fluids/Whitener to smudge, scratch or damage in any manner the Answer Sheet shall be cancelled.
- You have enter Roll Number on the test Booklet in the Box **Roll Number:-**
- This test booklet contain **95 items (questions)**. Each item comprises four responses (answer). You will select the response which you want to mark on the answer sheet. In case you feel that there is more than one correct response, mark the response which you consider the best. In any case, choose only one response for each item.
- You have to mark all your responses only on the separate answer sheet provided. See directions in the answer sheet.
- Each question has four alternative answers of which only one is correct. For each question, **darken only one, which ever you think is the correct answer on the OMR answer sheet with only Blue/Black Pen**. Pencil should not be used for darkening the circle. If more than one circle is found darkened, the answer will not be calculated.

Correct Method	Wrong Methods
<input type="radio"/> A <input checked="" type="radio"/> B <input type="radio"/> C <input type="radio"/> D	<input checked="" type="radio"/> A <input type="radio"/> B <input type="radio"/> C <input type="radio"/> D <input type="radio"/> A <input checked="" type="radio"/> B <input type="radio"/> C <input type="radio"/> D <input type="radio"/> A <input type="radio"/> B <input checked="" type="radio"/> C <input type="radio"/> D <input type="radio"/> A <input type="radio"/> B <input type="radio"/> C <input checked="" type="radio"/> D

- Each item carry **equal marks and No Negative marking**.
- Before you proceed to mark in the answer sheet the response to various items in the test booklet, you have to fill in some particulars in the answer sheet as per instructions sent to you with your Admission Certificate.
- After you have completed filling in all your responses on the answer sheet and the examination has concluded, you should hand over to the invigilator only the answer sheet. You are permitted to take away with you the test booklet.
- Sheets for rough work are appended in the test Booklet at the end.

Add:- Near By Sanjivani Hospital, Medical Mor, Rohtak
Mobile No:- 8383-04-3939, 9467-00-5180

AONE NURSING ACADEMY

LIMITED OFFER **HSSC CET**

NEW BATCH START



ONLINE OFFLINE

A One Online Education



SCAN TO DOWNLOAD APP

CONTACT US :- 8383043939

A-ONE NURSING ACADEMY

HSSC CET

अपनी कामयाबी मात्र 2 महीने में सुनिश्चित करें

ROHTAK A-ONE ACADEMY के WELL

EXPERIENCED FACULTY के साथ

NURSING OFFICER

(Staff Nurse)

ALL COMPETITIVE GOVT. EXAM.

NORCET, DMER, HSSC, DSSSB, ISIC, CHO, ETC.

ONLINE-OFFLINE REGULAR BATCH

TARGET BATCH

Online Offline Batch	CET OR B.SC NURSING ENTRANCE EXAM. Cont. 8383043939 AONE NURSING ACADEMY	NEET COACHING App. No. 8383043939 8383043939
----------------------------	--	---

SCAN FOR

DOWNLOAD APP





AONE NURSING ACADEMY

A-ONE NURSING ACADEMY

COACHING FOR: **COMMON ENTRANCES TEST FOR**

❖ **NEET** ❖ **MNS** ❖ **NURSING ASSISTANT**

❖ **B.SC. NURSING DEGREE** ❖ **B.SC.V/S** ❖ **VLDA**

COMPETITIVE EXAM FOR: **STAFF NURSE | NURSE | MPHW PHARMACY ETC.**

TUITION FOR: **PHYSICS | CHEMISTRY BIOLOGY & NURSING**

NEAR SANJEEVANI HOSPITAL, MAIN MEDICAL MORE, ROHTAK
FOR ENQUIRY: **9034221155** **9467005180**

NURSING OFFICER
(Staff Nurse)

ALL COMPETITIVE GOVT. EXAM.

NORCET, DMER, HSSC, DSSSB, ISIC, CHO, ETC.
ONLINE-OFFLINE REGULAR BATCH
TARGET BATCH

CET OR B.SC NURSING

ENTRANCE EXAM.

Cont. 8383043939

NEET COACHING

App. No. 8383043939

8383043939

8383043939

AONE NURSING ACADEMY

**SCAN FOR
DOWNLOAD APP**



A-One Nursing Academy

अब हर कोई कर सकता है भारत में सबसे ज्यादा
Govt. Job देने वाला Nursing Course
100% Govt. Job Guarantee

For Science Student
Bsc Nursing
4 Year Program
Essential Qualification 12th
with PCB & English

For Any Stream Student
GNM ANM
3Year Program 2 Year Program
Essential Qualification 12th with
ANY STREAM

Note:- सारे Course **PGIMS Rohtak** से करवाये जाएंगे

LIMITED OFFER **ONLY 20 Seats are Vacant** Admission पहले आये पहले पाए के आधार पर
+91-8383043939
+91-9467005180

MEDICAL MOR, ROHTAK

INDIA G.K.

1. भारत तथा पाकिस्तान के मध्य शिमला समझौता कब सम्पन्न हुआ था?
(a) अप्रैल, 1965 में (b) जुलाई, 1971 में
(c) जुलाई, 1972 में (d) अप्रैल, 1972 में
2. 'भारतीय अंतरिक्ष अनुसंधान संगठन' का मुख्यालय कहाँ स्थित है?
(a) श्री हरिकोटा (b) हैदराबाद
(c) बंगलुरु (d) चाँदीपुर
3. भारत के सविधान के निम्नलिखित संशोधनों में से किसके द्वारा भारतीय नागरिकों के मूल कर्तव्य निर्धारित किए गए?
(a) 40वाँ संशोधन (b) 41वाँ संशोधन
(c) 42वाँ संशोधन (d) 43वाँ संशोधन
4. सती प्रथा का अंत करने का श्रेय किसको जाता है?
(a) लॉर्ड डलहौजी (b) लॉर्ड विलियम बैंटिक
(c) लॉर्ड आकलैण्ड (d) लॉर्ड कैनिंग
5. निमोनिया रोग का कारण है –
(a) विषाणु (b) साइनोबैक्टीरिया
(c) जीवाणु (d) कवक
6. 'हेपेटाइट' किस धातु का अयस्क है?
(a) बॉक्साइट (b) एल्युमीनियम
(c) लोहा (d) सोना
7. सौरमण्डल का सबसे अधिक गर्म ग्रह कौन-सा है?
(a) शुक्र (b) मंगल
(c) पृथ्वी (d) शनि
8. 'नीली क्रांति' का संबंध किससे है?
(a) मत्स्य उत्पादन (b) खाद्यान्न उत्पादन
(c) तिलहन उत्पादन (d) दुग्ध उत्पादन
9. निम्नलिखित में से भारत पर पहली बार आक्रमण करने

वाले कौन थे?

- (a) अफगान (b) मंगोल
(c) अरब (d) तुर्क
10. भारत में पहली बार किस गवर्नर जनरल के समय में तार और रेल सेवा आरम्भ की गई थी?
(a) लॉर्ड विलियम बैंटिक (b) लॉर्ड डलहौजी
(c) लॉर्ड रिपन (d) लॉर्ड कैनिंग
11. मुस्लिम लीग का गठन कब हुआ था?
(a) 1895 ई. (b) 1902 ई.
(c) 1905 ई. (d) 1910 ई.
12. रिक्टर स्केल का प्रयोग किसके मापन में किया जाता है?
(a) समुद्र की गहराई (b) समुद्र की दिशा
(c) भूकम्प के झटके (d) इनमें से कोई नहीं
13. भारत की वित्तीय राजधानी कौन-सी है?
(a) मुम्बई (b) चेन्नई
(c) दिल्ली (d) चण्डीगढ़
14. 'ज्ञानपीठ' पुरस्कार निम्नलिखित में से किस क्षेत्र में विशिष्ट योगदान के लिए दिया जाता है?
(a) संगीत (b) संस्कृति
(c) साहित्य (d) विज्ञान
15. पहला भारतीय बैंक था –
(a) भारतीय स्टेट बैंक
(b) कलकत्ता प्रेसीडेन्सी बैंक
(c) ट्रेडर्स बैंक
(d) पंजाब नेशनल बैंक
16. भारत में पहली बोलती फिल्म थी –
(a) राजा हरिश्चन्द्र (b) आलम आरा
(c) चण्डीदास (d) झॉंसी की रानी
17. तानसेन किस मुगल सम्राट के दरबार के संगीतज्ञ थे?
(a) बाबर (b) शाहजहाँ
(c) हुमायूँ (d) अकबर
18. किस शहर में भारत के पहले Open Rock Museum का उद्घाटन किया?
(a) पटना (b) रांची
(c) हैदराबाद (d) दिल्ली

19. विनोद कन्नन ने किस एयरलाइंस के CEO का पदभार संभाल लिया है?
- (a) गो एयर (b) एयर इंडिया
(c) स्पाइसजेट (d) विस्तारा
20. मैनपुरी सैनिक स्कूल का नाम किसके नाम पर रखने की घोषणा की गई है?
- (a) शहीद भगत सिंह (b) जनरल विपिन रावत
(c) सुभाष चंद्र बोस (d) दीनदयाल उपाध्याय

24. Which of the following Network and transport layer protocols are commonly used on the Internet?
- (a) TCP and HTTP (b) RIP and NLSIP
(c) TCP and IP (d) TCP and UDP
25. Telephone networks usually make use of which of the following transmissions.
- (a) Simplex transmission
(b) Half – duplex transmission
(c) Wireless transmission
(d) Full duplex transmission



AONE NURSING ACADEMY

Download Our
App

REGISTER NOW

GET IT ON
Google Play

AVAILABLE NOW (LINK IN BIO)

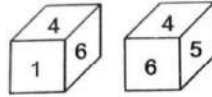


COMPUTER

21. The division arithmetic operator is represented by which of the following symbols?
- (a) ^ (b) /
(c) * (d) #
22. In MS-word, what is the smallest and the largest font size available in the font size of drop down list?
- (a) 8 and 72 (b) 8 and 64
(c) 12 and 72 (d) 36 and 72
23. A printer's image Quality is usually measured in:-
- (a) Character per second
(b) Pages per minute
(c) Dots per inch
(d) Pixels

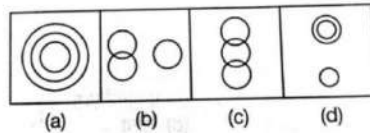
REASONING

26. एक पासे की दो स्थितियाँ दी गई हैं, जब 1 ऊपर है तो नीचे कौन-सी संख्या होगी?



- (a) 3 (b) 5
(c) 2 (d) 6

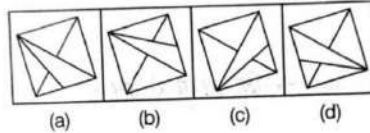
27. निम्नलिखित में से कौन-सी आकृति संगीतकारों, वाद्यकारों और वायलिन बजाने वालों को प्रदर्शित करती है?



28. निम्नलिखित में से कौन-सी उत्तर आकृति दी हुई प्रश्न आकृति को पूरा करेगी?



उत्तर आकृतियाँ



A-ONE NURSING ACADEMY

HSSC CET

अपनी कामयाबी मात्र 2 महीने में सुनिश्चित करें

ROHTAK A-ONE ACADEMY के WELL EXPERIENCED FACULTY के साथ

LIVE BATCH

JOIN NOW

Ansara Para Medical Institute Pvt. Ltd.

SCAN FOR
DOWNLOAD APP





AONE NURSING ACADEMY

A-ONE NURSING ACADEMY
HSSC CET
अपनी कामयाबी मात्र 2 महीने में सुनिश्चित करें
**ROHTAK A-ONE ACADEMY के WELL
EXPERIENCED FACULTY के साथ**

MNS
WITH NEET PATTERN
Cont. 8383043939
AONE NURSING ACADEMY
www.aonenursingacademy.com

Online
Offline
Batch

SCAN FOR
DOWNLOAD APP



29. नीचे दिए गए विकल्पों में से संबंधित अक्षर/शब्द/संख्या/आकृति को चुनिए।
पुस्तक : प्रकाशक :: फिल्म : ?
(a) लेखक (b) सम्पादक
(c) निर्देशक (d) निर्माता
30. नीचे दिए गए विकल्पों में से संबंधित अक्षर/शब्द/संख्या/आकृति को चुनिए।
FILM : ADGH :: MILK : ?
(a) ADGF (b) HDGE
(c) HDGF (d) HEGF
31. नीचे दिए गए विकल्पों में से संबंधित अक्षर/शब्द/संख्या/आकृति को चुनिए।
25 : 60 :: 210 : ?
(a) 504 (b) 343
(c) 336 (d) 330
32. 19, 23, 26, 30, 33, ?
(a) 31 (b) 35
(c) 37 (d) 39
33. ZTW, YSV, XRU, ?
(a) WTQ (b) QTW
(c) WQT (d) WQS
34. m _ ommn _ m _ nommn _ m
(a) onmo (b) nomo
(c) monm (d) nnmo
35. P, Q, R और S चार क्रमानुसार महीने हैं जिसमें P और S में 30 दिन हैं। S कौन-सा महीना है?
(a) अप्रैल (b) जून
(c) सितम्बर (d) नवम्बर
36. मैं पंक्ति में दोनों तरफ से 7वाँ हूँ। पंक्ति में कितने व्यक्ति हैं?
(a) 10 (b) 11
(c) 13 (d) 14
37. A, B से छोटा है, लेकिन C से लंबा है। D, A से छोटा है, लेकिन C से लंबा है। E, B से छोटा है, लेकिन A से लंबा है। सबसे छोटा व्यक्ति कौन है?
(a) B (b) C
(c) A (d) D
38. X, Y का पति है। W, X की पुत्री है। Z, W का पति है। N, Z की पुत्री है। N का Y से क्या संबंध है?
(a) चचेरा भाई (b) भतीजी
(c) लड़की (d) नातिन
39. यदि RAMAN को 12325 लिखा जाए और DINESH को 675849 लिखा जाए तो HAMAM को कैसे लिखा जाएगा?
(a) 92233 (b) 92323
(c) 93322 (d) 93232
40. सुरेश अपने विद्यालय से 2 किमी. सीधे चलता है। बाद में वह दाईं ओर मुड़ता है और 1 किमी. पैदल चलता है। पुनः वह अपने घर पहुँचने के लिए दाईं ओर मुड़कर 1 किमी. चलता है। यदि उसका घर विद्यालय से दक्षिण-पूर्व दिशा में स्थित है, तब सुरेश ने विद्यालय से किस दिशा में चलना प्रारम्भ किया था?
(a) पूर्व (b) पश्चिम
(c) दक्षिण (d) उत्तर
41. यदि घड़ी में समय 6:20 हो तथा मिनट की सुई उत्तर-पूर्व दिशा की ओर इंगित करती हो तो घण्टे की सुई किस दिशा की ओर इंगित करेगी?
(a) पश्चिम (b) दक्षिण-पूर्व
(c) पूर्व (d) उत्तर-पश्चिम
- B.Sc. NURSING करें**
GOVT. & PRIVATE COLLEGE से 2022-23 में
ADMISSION के लिए सम्पर्क करें
- ADMISSION FORM की
ADVANCE INFORMATION
& SEAT BOOK के लिए**
- 9467005180**
ALL DETAILS WHATSAPP
- NAME:-
QUALIFICATION:-
COURSE WILLING:-
DISTRICT :-
-
- HARYANA G.K.**
42. पानीपत की तीसरी लड़ाई किस वर्ष हुई थी?
(a) 1526 ई. (b) 1539 ई.
(c) 1605 ई. (d) 1761 ई.

43. हरियाणा राज्य को कितने कृषि जलवायु क्षेत्रों में विभाजित किया गया है?

- (a) 4 (b) 3
(c) 2 (d) 6

44. हरियाणा में निम्न में से किस खाद्यान्न की खेती की जाती है?

- (a) चावल (b) गेहूँ
(c) चना (d) ये सभी

45. पिपली मिनी डिडियाघर किस जिले में स्थित है?

- (a) सिरसा (b) करनाल
(c) फरीदाबाद (d) कुरुक्षेत्र

46. हरियाणा में कौन-सा बौध, हाइड्रोलिक इंजीनियरिंग का एक आश्चर्य है और एक गुरुत्वाकर्षण बौध संरचना है?

- (a) कौशल्या बौध (b) अनंगपुर बौध
(c) हथिनीकुंड बौध (d) भाखड़ा नागल बौध

47. निम्नलिखित में से हरियाणा में सबसे अधिक खेती किस फल की होती है?

- (a) आम (b) सेब
(c) चेरी (d) अनानास

48. राजा ने थानेसर के अलावा कन्नौज को भी अपनी राजधानी बनाया था।

- (a) युधिष्ठिर (b) पृथ्वीराज चौहान
(c) हर्षवर्धन (d) मुहम्मद गोरी

49. पानीपत का युद्ध भारत में मुगल साम्राज्य की शुरुआत के रूप में चिह्नित है।

- (a) पहला (b) दूसरा
(c) तीसरा (d) चौथा

50. मसानी मेला की देवी के सम्मान में आयोजित किया जाता है।

- (a) अच्छा स्वास्थ्य (b) धन
(c) उपजाऊपन (d) चेचक

51. झाड़ूफिरी के बारे में सबसे उल्लेखनीय बात यह है कि यह हरियाणवी भाषा में लिखा पहला है।

- (a) नाटक (b) उपन्यास
(c) गाना (d) फिल्म

52. जब 1966 में हरियाणा को एक नया राज्य बनाया गया था, उस समय श्री उदयमानु हंस को कौन-सा शीर्षक दिया गया था?

- (a) राजपिता

(b) राज्य के नेता और दूरदर्शी

- (c) राजकवि
(d) राजलेखक

53. श्री विशम्भर नाथ कौशिक ने मासिक पत्रिकाओं में लिखा है।

- (a) कौशिक द्वारा कविताएँ
(b) कौशिक की चिट्ठियाँ
(c) दुबे की चिट्ठियाँ
(d) दुबे की कविताएँ

AONE NURSING ACADEMY

LIMITED OFFER
HSSC CET
NEW BATCH START
ONLINE OFFLINE
A One Online Education
SCAN TO DOWNLOAD APP
CONTACT US :- 8383043939



54. किस राज्य की सीमा हरियाणा की सीमा से सटी हुई नहीं है?

- (a) गुजरात (b) दिल्ली
(c) पंजाब (d) उत्तरप्रदेश

55. हरियाणा की पूर्वी सीमा पर नदी बहती है।

- (a) सतलज (b) गंगा
(c) घग्गर (d) यमुना

56. हरियाणा के किस राष्ट्रीय उद्यान और वन्यजीव अभयारण्य में साल के पेड़ मिलते हैं?

- (a) कालेसर (b) सुल्तानपुर
(c) बीर शिकारगढ़ (d) नाहर

57. हरियाणा में गुड़गॉव का लिंग अनुपात है और साक्षरता दर है।

- (a) सबसे कम
(b) सबसे कम, सबसे अधिक
(c) सबसे अधिक, सबसे कम
(d) सबसे अधिक, सबसे अधिक



AONE NURSING ACADEMY

A-ONE NURSING ACADEMY
HSSC CET
अपनी कामयाबी मात्र 2 महीने में सुनिश्चित करें
**ROHTAK A-ONE ACADEMY के WELL
EXPERIENCED FACULTY के साथ**



NURSING OFFICER
(Staff Nurse)
ALL COMPETITIVE GOVT. EXAM.
NORCET, DMER, HSSC, DSSSB, ISIC, CHO, ETC.
ONLINE-OFFLINE REGULAR BATCH
TARGET BATCH
CET OR B.SC NURSING
ENTRANCE EXAM.
Cont. 8383043939
NEET COACHING
8383043939
AONE NURSING ACADEMY



**SCAN FOR
DOWNLOAD APP**





AONE NURSING ACADEMY

A-ONE NURSING ACADEMY
HSSC CET
अपनी कामयाबी मात्र 2 महीने में सुनिश्चित करें
**ROHTAK A-ONE ACADEMY के WELL
EXPERIENCED FACULTY के साथ**

NURSING OFFICER
(Staff Nurse)
ALL COMPETITIVE GOVT. EXAM.
NORCET, DMER, HSSC, DSSSB, ISIC, CHO, ETC.
ONLINE-OFFLINE REGULAR BATCH
TARGET BATCH

**CET OR B.SC
NURSING
ENTRANCE EXAM.**
Cont. 8383043939

**NEET
COACHING**
8383043939

Online
Offline
Batch

AONE NURSING ACADEMY

**SCAN FOR
DOWNLOAD APP**



58. राजा हर्षवर्धन ने थानेसर के अलावा को अपनी राजधानी बनाया था।
(a) हिसार (b) पानीपत
(c) कन्नौज (d) कुरुक्षेत्र
59. हरियाणा के प्रथम मुख्यमंत्री कौन थे?
(a) श्री बंसीलाल
(b) श्री भगवत दयाल शर्मा
(c) राव विरेंद्र सिंह
(d) श्री बनारसी दास गुप्ता
60. हरियाणा के वर्तमान मुख्यमंत्री श्री मनोहरलाल खट्टर, हरियाणा विधानसभा में निर्वाचन क्षेत्र का प्रतिनिधित्व करते हैं।
(a) जगाधरी (b) करनाल
(c) कैथल (d) पानीपत
61. हरियाणा राज्य में सर्वोच्च पर्वत शिखर कौन-सा है?
(a) कारो चोटी (b) गारो चोटी
(c) टोसा चोटी (d) ट्रोशेर चोटी
62. हरियाणा का उच्च न्यायालय कहाँ स्थित है?
(a) गुडगाँव (b) अम्बाला
(c) चण्डीगढ़ (d) फरीदाबाद
63. हरियाणा विधानसभा के वर्तमान अध्यक्ष कौन हैं?
(a) श्री ज्ञानचंद गुप्ता
(b) श्री संतोश यादव
(c) श्री अभय सिंह चौटाला
(d) श्री कप्तान सिंह सोलंकी
64. हरियाणा की वर्तमान विधानसभा है।
(a) ग्यारहवीं विधानसभा (b) चौदहवीं विधानसभा
(c) बारहवीं विधानसभा (d) तेरहवीं विधानसभा
65. हरियाणा की नदी का प्राचीन नाम अरुणा था।
(a) मार्कंड (b) साहिबी
(c) टांगरी (d) घग्गर

HINDI

66. 'राजा' का विलोम इनमें से नहीं है -
(a) प्रजा (b) रानी
(c) सेनापति (d) रंक
67. जिन वाक्यों से प्रश्न पूछने का बोध होता है, उन्हें कहते हैं -
(a) विधिवाचक (b) आज्ञावाचक
(c) प्रश्नवाचक (d) इच्छावाचक
68. परिमाणवाचक क्रिया-विशेषण अव्यय है -
(a) दिनभर (b) सर्वत्र
(c) निःसदेश (d) अत्यंत
69. शुद्ध वर्तनी पहचानिए -
(a) आनुशागिक (b) अनुसंगिक
(c) अनुषागिक (d) आनुषंगिक
70. नीचे लिखे वाक्यों में से कौन-सा वाक्य सही है?
(a) उसकी आयु तीस वर्ष है इस समय
(b) इस समय उसकी अवस्था तीस वर्ष है
(c) तीस वर्ष की अवस्था है इस समय उसकी
(d) इस समय तीस वर्ष की अवस्था है उसकी
71. किसमें व्यंजन संधि है?
(a) निराधार (b) सत्कार
(c) सप्तर्षि (d) हिमालय
72. 'बढ़ाई-बढ़ाई' शब्द युग्म का सही अर्थ है -
(a) प्रशंसा-बढ़ोत्तरी (b) महानता-कारपेंटर
(c) सम्मान-तक्षक (d) खुशामद-आमद
73. मुख में राम बगल में छुरी
(a) धोखा देने की नीयत से श्रेष्ठ प्रदर्शन
(b) साधु-संन्यासियों द्वारा असलहा धारण करना
(c) साधु-संन्यासियों को सुरक्षा की क्या आवश्यकता
(d) असलहों से लैस होकर राम-राम जपना
74. यह मेरा है कि आज वर्षा अवश्य होगी।
(a) कथन (b) आकलन
(c) अनुभव (d) अनुमान

NURSING OFFICER
(Staff Nurse)
ALL COMPETITIVE GOVT. EXAM.
NORCET, DMER, HSSC, DSSSB, ISIC, CHO, ETC.
ONLINE-OFFLINE REGULAR BATCH
TARGET BATCH

**CET OR B.SC
NURSING
ENTRANCE EXAM.**
Cont. 8383043939

**NEET
COACHING**
8383043939

Online
Offline
Batch

AONE NURSING ACADEMY

75. तद्भव शब्द पहचानिए।

- (a) गोमल (b) हरिद्रा
(c) पर्यक (d) तीखा

HARYANA से ANM-GNM करें

GOVT. & PRIVATE COLLEGE से 2022-23 में
ADMISSION

FORM की ADVANCE
INFORMATION /
SEAT BOOK के लिए

9467005180
ALL DETAILS WHATSAPP

NAME:-
QUALIFICATION:-
COURSE WILLING:-
DISTRICT :-



ENGLISH

76. Select the one which best expresses the same sentence in Indirect Speech.

Pawan said to me, "If I hear any news, I'll phone you."

- (a) Pawan told me that if he heard any news, he will phone me
(b) Pawan told me that if he will hear any news, he will phone me
(c) Pawan told me that if he had heard any news, he would phone me
(d) Pawan told me that if he heard any news, he would phone me

77. Select the one which best expresses the same sentence in Indirect Speech.

The teacher said to Mahesh, "Congratulations ! Wish you success in life."

- (a) The teacher congratulated Mahesh and said wish you success in life
(b) The teacher wished congratulations and success in life to Mahesh
(c) The teacher said congratulations to

Mahesh and wished him success in life

(d) The teacher congratulated Mahesh and wished him success in life

78. Find out the part which contains error. If sentence it is error free then your answer is (d).

He left for Mumbai on sunday (a) / arriving here (b) / on monday, (c) / No error (d)

79. Find out the part which contains error. If sentence it is error free then your answer is (d).

No sooner did the teacher (a) / enter the classroom (b) / the students got up. (c) No error (d)

80. Choose the most suitable answer for the following question.

My windows look _____ the garden.

- (a) up on (b) out on
(c) in (d) at

81. Choose the most suitable answer for the following question.

Vinay does not play cricket and _____ does Yashwant.

- (a) so (b) also
(c) either (d) neither

82. Antonym of susceptible is

- (a) incredible (b) immune
(c) predictable (d) unpredictable

83. Synonym is prognosis is

- (a) diagnosis (b) forecast
(c) preface (d) identity

84. Our task had been completed before sunset. Correct Active Voice will be

- (a) We completed our task before sunset
(b) We have completed our task before sunset
(c) We complete our task before sunset
(d) We had completed our task before sunset



AONE NURSING ACADEMY

A-ONE NURSING ACADEMY

HSSC CET

अपनी कामयाबी मात्र 2 महीने में सुनिश्चित करें

ROHTAK A-ONE ACADEMY के WELL
EXPERIENCED FACULTY के साथ

NURSING OFFICER

(Staff Nurse)

ALL COMPETITIVE GOVT. EXAM.

NORCET, DMER, HSSC, DSSSB, ISIC, CHO, ETC.
ONLINE-OFFLINE REGULAR BATCH
TARGET BATCH

Online
Offline
Batch

CET OR B.SC
NURSING
ENTRANCE EXAM.

Cont. 8383043939

AONE NURSING ACADEMY

NEET
COACHING

8383043939


8:00 AM to 6:00 PM

Dr. Anil Kumar

SCAN FOR

DOWNLOAD APP





AONE NURSING ACADEMY

SCAN FOR
DOWNLOAD APP



HARYANA से ANM-GNM करें
GOVT. & PRIVATE COLLEGE से 2022-23 में
ADMISSION

**FORM की ADVANCE
INFORMATION /
SEAT BOOK के लिए**



9467005180

ALL DETAILS WHATSAPP

NAME:-
QUALIFICATION:-
COURSE WILLING:-
DISTRICT :-

85. The boy laughed at the beggar Correct Passive Voice will be

- (a) The beggar was laughed by the boy
(b) The beggar was being laughed by the boy
(c) The beggar was being laughed at by the boy
(d) The beggar was laughed at by the boy

MATHS

86. एक आदमी कुछ वस्तुएँ रु. P प्रति दर्जन के भाव से खरीदता है तथा रु. $\frac{P}{8}$ प्रति वस्तु के हिसाब से बेचता है। उसका लाभ प्रतिशत है -

- (a) 30 (b) 40
(c) 50 (d) 60

87. यदि 8 समी. आधार वाले किसी त्रिभुज का क्षेत्रफल उतना ही हो जितना कि एक 8 सेमी. त्रिज्या वाले वृत्त का, तो त्रिभुज का संगत शीर्षलम्ब (सेमी. में) होगा -

- (a) 12π (b) 20π
(c) 16π (d) 32π

88. किसी संख्या को जब 42, 70, 84 और 91 से भाग दिया जाता है, तब प्रत्येक स्थिति में क्रमशः 23, 51, 65 और 72 शेष बचता है। वह संख्या क्या है?

- (a) 52561 (b) 5441
(c) 5371 (d) 5021

89. यदि दो संख्याओं का योग 105 तथा उनका अंतर 3 है तो उनका लघुत्तम समापवर्त्य क्या है?

- (a) 924 (b) 936
(c) 918 (d) 940

90. एक चुनाव में दो प्रत्याशी थे, एक प्रत्याशी ने 43.5% मत प्राप्त किए और 3744 मतों से पराजित हो गया। विजयी प्रत्याशी ने कितने मत प्राप्त किए?

- (a) 12528 (b) 17378
(c) 15482 (d) 16272

91. $25^{11} \times 10^6 \times 14^5$ में अभाज्य गुणनखण्डों की संख्या है -

- (a) 46 (b) 42
(c) 44 (d) 22

92. व्यापार में चंदन को रंजन से 15% कम लाभ प्राप्त हुआ। यदि चंदन की पूँजी रु. 4896 थी, तो रंजन की पूँजी क्या थी?

- (a) रु. 5900 (b) रु. 5880
(c) रु. 5575 (d) रु. 5760

93. यदि किसी वर्ग का विकर्ण दोगुना कर दिया जाए तो उसका क्षेत्रफल

- (a) चार गुना हो जाएगा
(b) तीन गुना हो जाएगा
(c) बराबर ही रहेगा
(d) उपरोक्त में से कोई नहीं

94. यदि $\sec \theta = \frac{13}{5}$ तो $\frac{2 \sin \theta - 3 \cos \theta}{4 \sin \theta - 9 \cos \theta}$ का मान होगा-

- (a) 3 (b) 7
(c) -3 (d) $\frac{3}{7}$

95. यदि $3 \tan \theta = 4$ हो तो $\sqrt{\frac{1 + \sin \theta}{1 - \sin \theta}}$ का मान होगा-

- (a) 3 (b) $\frac{1}{3}$
(c) $\sqrt{2}$ (d) $\frac{1}{\sqrt{2}}$

